

Ngày.... tháng... năm 2015

## Phần 1: Thông tin cá nhân

Họ và tên:.....(Viết chữ in hoa)

Ngày sinh:.....

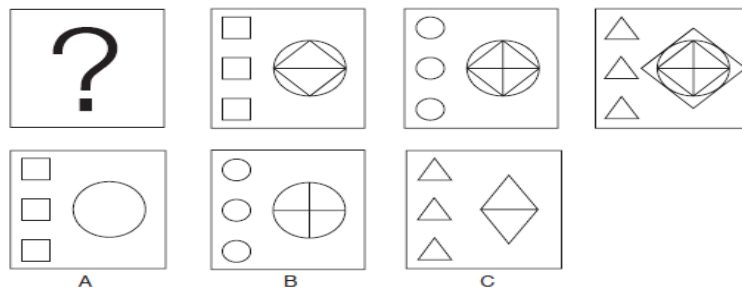
Điện thoại liên hệ:.....

## Phần 2: Câu hỏi IQ (6 điểm)

[Bài gồm 10 câu IQ, mỗi câu 0,6 điểm ]

### Câu 1:


Trong các đáp án A, B, C, tìm hình phù hợp điền vào ô có dấu “?”.



Đáp án: :.....

### Câu 2:

Hãy điền số chấm thích hợp vào dấu “?” ở quân domino cuối cùng.



Đáp án: :.....(chấm trắng)

### **Câu 3:**

Minh, Hà và Bình sở hữu 3 ngôi nhà khác nhau trong thị trấn. Kiểu dáng, địa điểm và giá trị của 3 ngôi nhà này được cho trong bảng bên dưới, tuy nhiên chưa được sắp xếp tương ứng:

Nhà tầng	Nhà gỗ	1 tỉ
Sông Xanh	750 triệu	Nhà ngói
600 triệu	Đường Ban Mai	Nam Giang

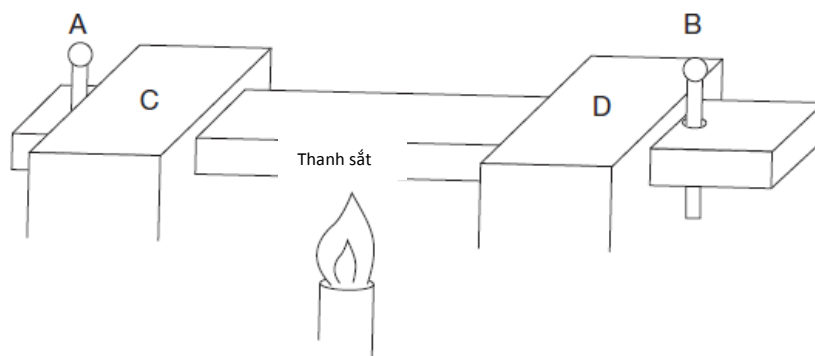
Hà sống cạnh Sông Xanh, nhưng giá trị ngôi nhà của Hà không phải là 750 triệu. Ngôi nhà ở trên Đường Ban Mai có giá trị thấp nhất, mặc dù con đường này khá đẹp. Bình sống ở Nhà mái ngói, và không có Nhà mái ngói nào ở khu vực Nam Giang, trong khi Minh không ở trong Nhà gỗ. Hãy xác định từng ngôi nhà với kiểu dáng, giá trị tương ứng là của ai và điền vào bảng sau:

Đáp án: :

Chủ sở hữu	Kiểu dáng	Địa điểm	Giá trị
Minh	.....	.....	.....
Hà	.....	.....	.....
Bình	.....	.....	.....

### **Câu 4:**

Hai chiếc đinh A,B trong hình vẽ chốt chặt 2 đầu của thanh sắt xuyên qua 2 khối sắt C, D. Dự đoán điều gì sẽ xảy ra khi thanh sắt được nung nóng như trong hình.



- A. Hai chiếc đinh sẽ bị uốn
- B. 2 chiếc đinh và khối C, D sẽ cách nhau
- C. Không có điều gì xảy ra

Đáp án: :.....

### **Câu 5:**

Chị Yuki đi bắt taxi để đi gặp 3 người bạn. Vừa đến điểm hẹn, do chị Yuki đã quá vui mừng khi nhìn thấy các bạn mình và chị đã để quên túi xách trên xe taxi. Rất may là cả 3 bạn của chị Yuki đều đã nhìn thấy biển số xe. Tuy nhiên, mỗi người nhớ một biển số khác nhau. Theo bạn biển số xe nào là đúng:

- A. JXK 12L
- B. JYK 12L
- C. JXK 12I
- D. JXX 12L

Đáp án: :.....

### **Câu 6:**

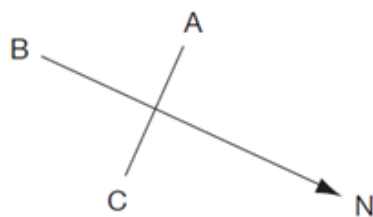
Bạn hãy điền thêm 2 số giống hệt nhau vào phép tính sau (Không phải là số 1) để phép toán có ý nghĩa:

$$6 \div 6 = 6$$

Đáp án: :.....

### **Câu 7:** (Câu hỏi tiếng Anh)

Hướng nào là hướng đông: A, B hay C



Đáp án: :.....

**Câu 8:** (Câu hỏi tiếng Anh)

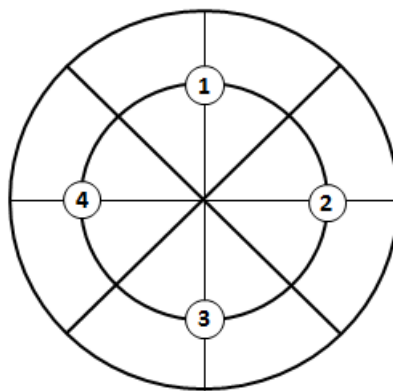
Hãy sắp xếp 16 chữ cái sau vào các ô trong hình bên dưới để tạo thành 2 từ tiếng Anh có nghĩa (khi đọc xuôi chiều kim đồng hồ ở mỗi vòng tròn ta được 1 từ gồm 8 chữ cái). Biết rằng các chữ cái được chia thành các nhóm trong mỗi góc như sau:

Góc 1: R, Y, T, E

Góc 2: L, U, A, H

Góc 3: I, T, I, M

Góc 4: V, I, E, D



Đáp án: :.....

**Câu 9:** (Câu hỏi tiếng Anh)

EARTH is to HEART as PEARS is to: SPARE, PARSE, SPEAR, REAPS, ASPER, PARES?

Đáp án: :.....

**Câu 10:**

Theo bạn lá cờ (Trong hình vẽ) sẽ bay về hướng nào?





# BÀI THI XÉT CẤP HỌC BỔNG “CANON-CHẤP CẢNH NHÂN TÀI 2015”

---

## **Câu 2:**

Nếu bạn là lãnh đạo cấp cao của Việt Nam trong tương lai. Bạn sẽ làm gì?

.....

.....

.....

.....

.....

.....

.....

.....

.....

.....

.....

.....

.....

.....

.....

.....

.....

.....

.....

.....

.....

.....

.....

.....

.....

## **Lưu ý:**

- Học sinh, sinh viên viết tự luận ngắn gọn, súc tích và không vượt quá giới hạn dung lượng Ban tổ chức đưa ra: **tối đa 150 từ cho mỗi câu luận.**

\_\_\_\_\_ *Hết* \_\_\_\_\_